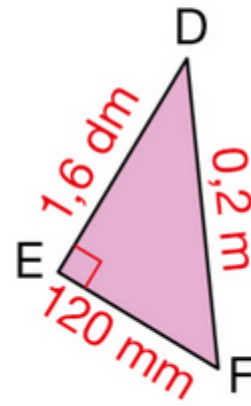
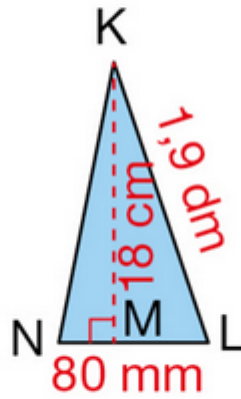
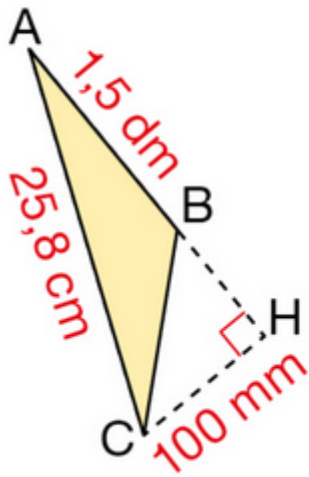


**Exercice 6 : calculer l'aire de ces triangles.**

Calculer les aires de ces triangles, puis ranger ces aires par ordre croissant.

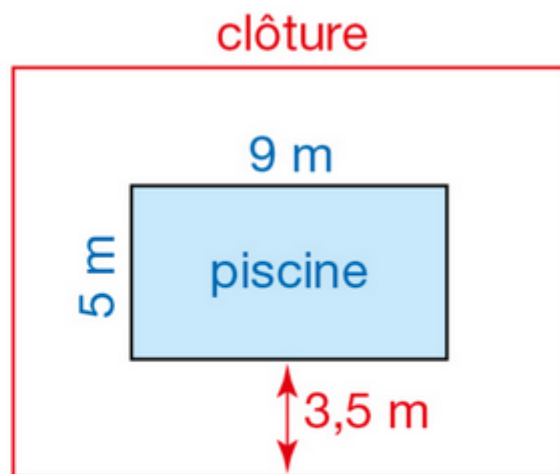


**Exercice 7 : problème de la piscine.**

Pour sécuriser sa piscine, Aurélie veut installer une clôture.

La clôture de forme rectangulaire doit être à 3,50 m des bords de la piscine.

Calculer la longueur de la clôture.



Voici deux extraits d'un jeu vidéo :



750 points



1 250 points

**Exercice 6 : proportionnalité.**

- Le nombre de points est-il proportionnel au nombre de coupes ? Expliquer.
- Combien de coupes faut-il pour obtenir 4 000 points ?
- Louise a gagné 9 coupes. Combien de points a-t-elle obtenus ?